



MATEMÁTICA 7° BÁSICO

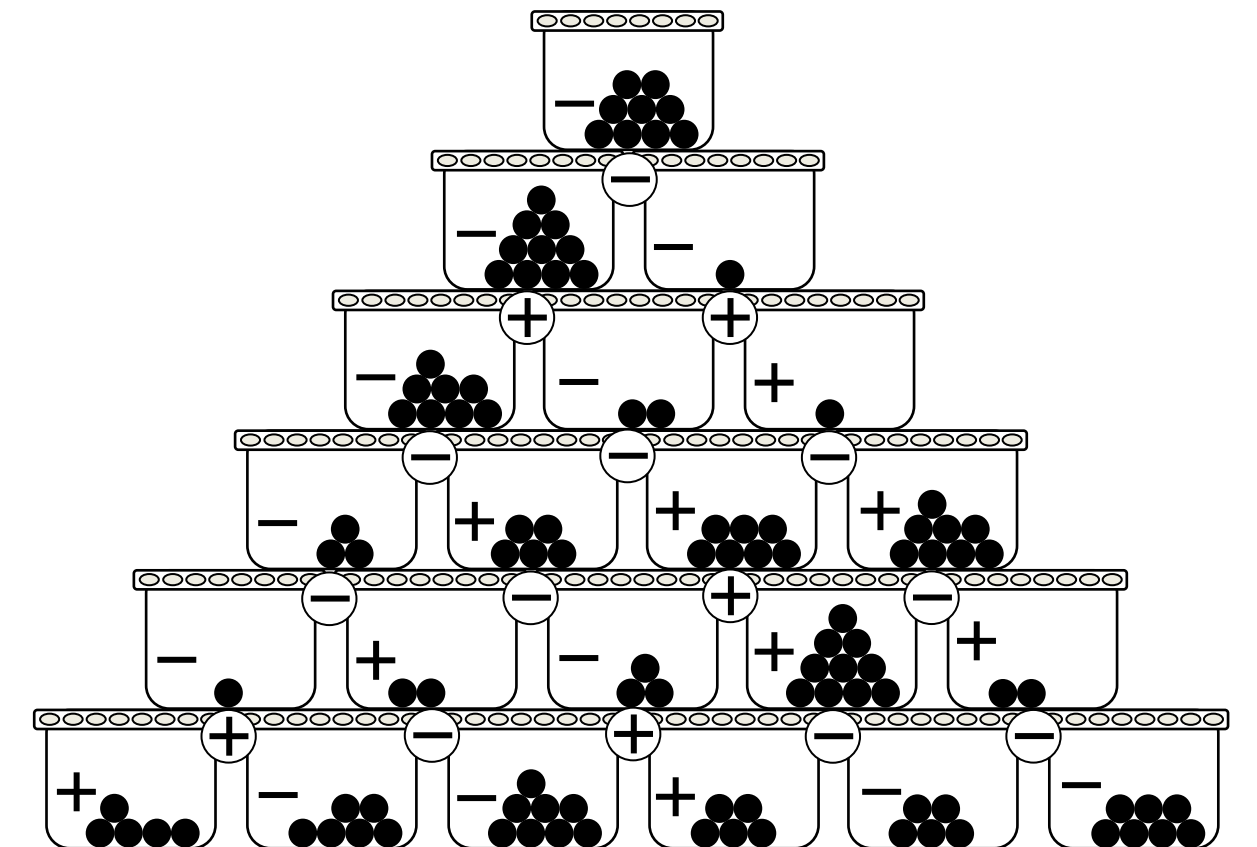
SOLUCIONARIO GUÍA DE APRENDIZAJE REMOTO N°2

I Instrucciones:

1. A continuación se incluyen las respuestas correctas de la guía N°2
2. Revisa el trabajo que has realizado para saber cómo vas en tu proceso de aprendizaje
3. Si tienes dudas puedes escribirme a oscarsepulveda81@gmail.com, o también al WhatsApp +569 92799012

SOLUCIONARIO

PAUTA JUEGO: JUGANDO A LAS BOLITAS

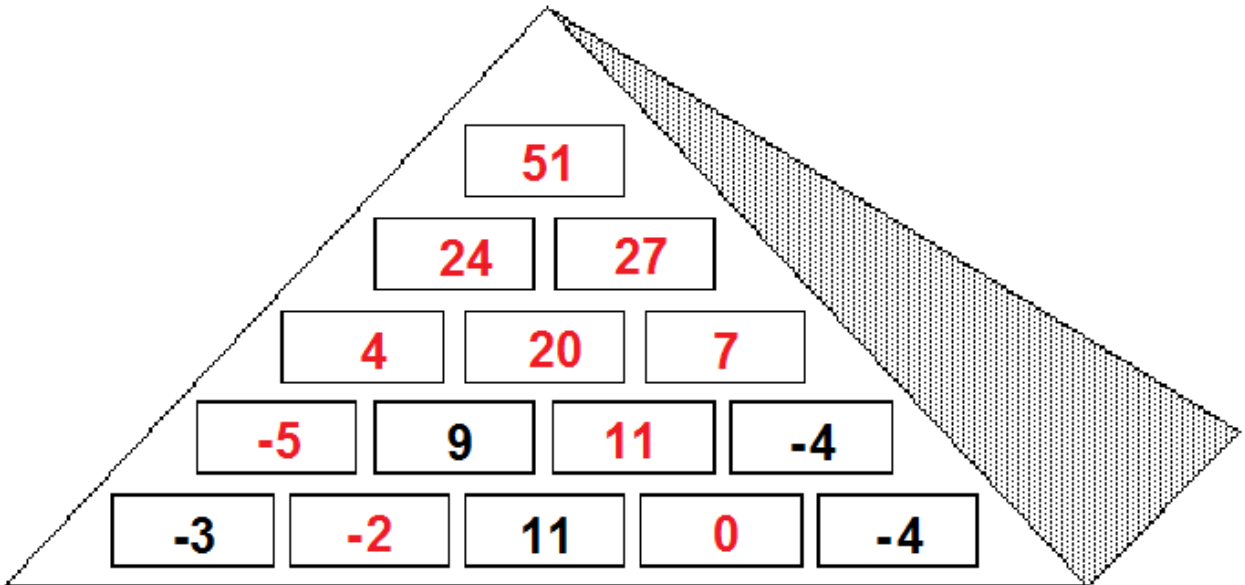


¿Con cuántas bolitas quedó Estela al final?

Estela debe 9 bolitas

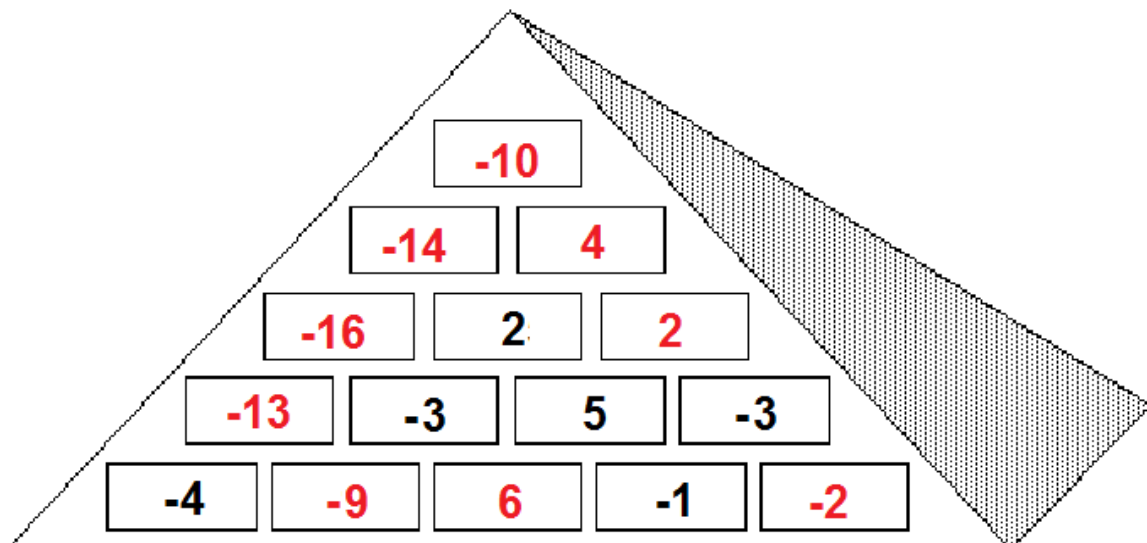
PAUTA JUEGO: LA PIRÁMIDE CIFRADA 9

Solución:



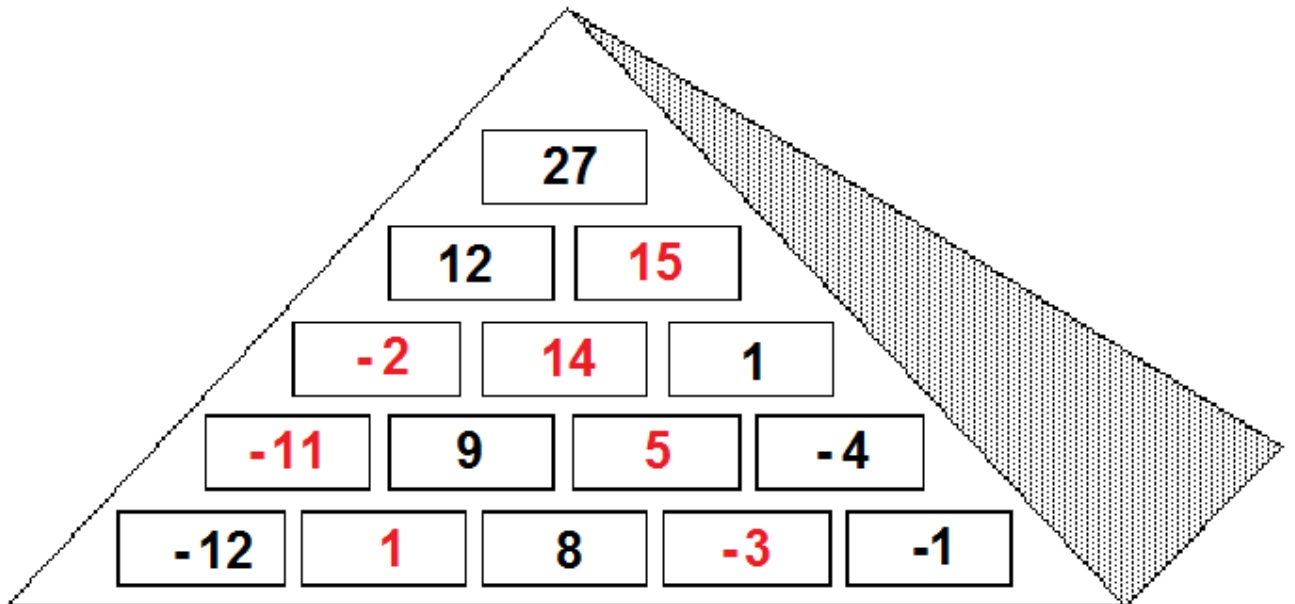
PAUTA JUEGO: LA PIRÁMIDE CIFRADA 7

Solución:



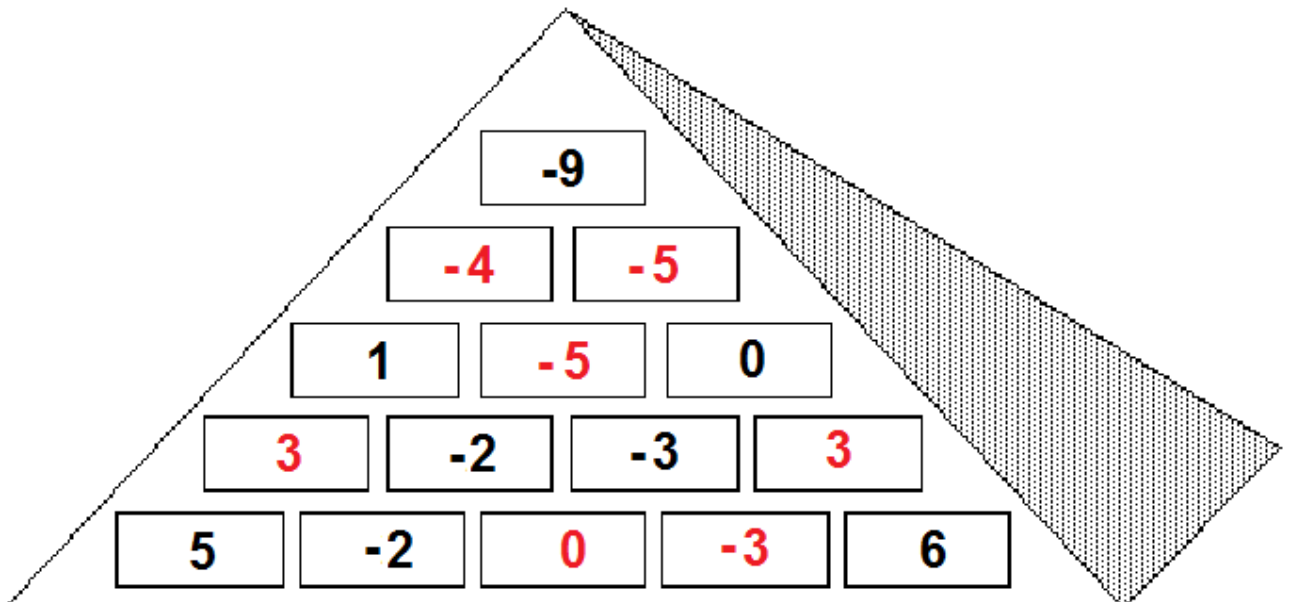
PAUTA JUEGO: LA PIRÁMIDE CIFRADA 5

Solución:



PAUTA JUEGO: LA PIRÁMIDE CIFRADA 8

Solución:



PAUTA JUEGO: EL VALOR DE LOS SIGNOS NAVIDEÑOS 1

Solución:

 = 8  = 3  = 7  = 6

Diagram showing 10 hexagonal game pieces with icons and numbers:

- Hexagon 1: 1 tree, 1 ornament, 1 tree, 1 candy cane, 1 tree, 1 gift. (Total: 8)
- Hexagon 2: 1 tree, 1 gift, 1 tree, 1 gift, 1 tree, 1 gift. (Total: 21)
- Hexagon 3: 1 gift, 1 gift, 1 gift, 1, 1 gift, 1. (Total: 21)
- Hexagon 4: 1 ornament, 1 tree, 1 ornament, 1 gift, 1 tree, 1. (Total: 21)
- Hexagon 5: 1 gift, 4, 1 tree, 2, 1 ornament, 1 candy cane. (Total: 21)
- Hexagon 6: 1 ornament, 1 ornament, 1 ornament, 2, 2, 2. (Total: 21)
- Hexagon 7: 1 gift, 1 candy cane, 2, 2, 1 candy cane, 1 gift. (Total: 21)
- Hexagon 8: 1 ornament, 4, 1 ornament, 1 tree, 4, 1 tree. (Total: 21)